	EXERCICE DE REMÉDIATION OPTIQUE - 4^{ÈME}	
		4428
Notion	Obtention d'une image réelle sur un écran	
Capacité	Faire un schéma	
Pré-requis / connaissances	Schématisation d'une lentille, d'un objet, d'une image	
Commentaires		

ÉNONCÉ

On a photographié ci-dessous une expérience dans laquelle on obtient l'image nette du filament d'une lampe à incandescence par une lentille convergente sur un écran.



QUESTION

Plusieurs schémas de l'expérience sont proposés.
Indiquer si le schéma est juste ou non et justifier.

Schéma 1 :

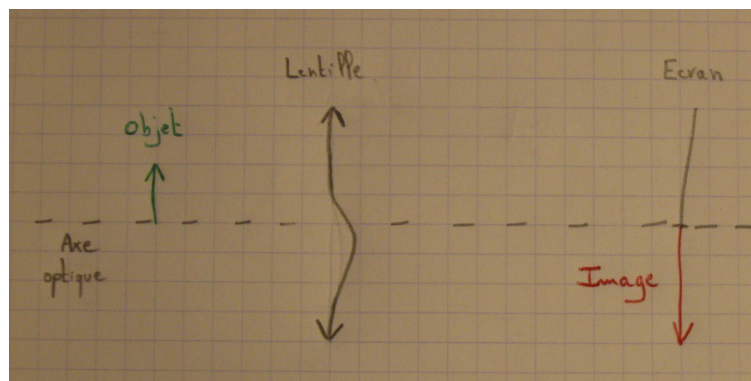


Schéma 2 :

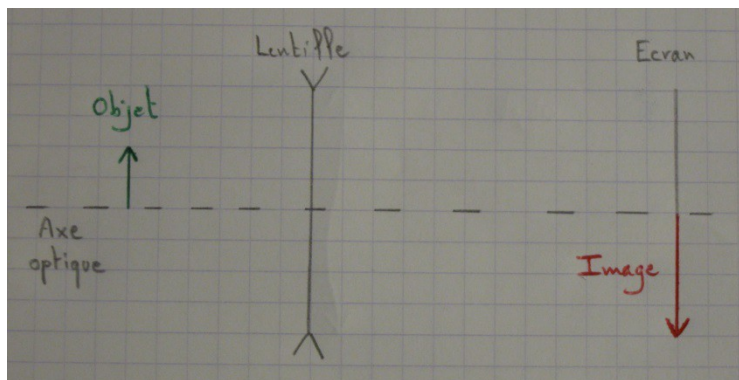


Schéma 3 :

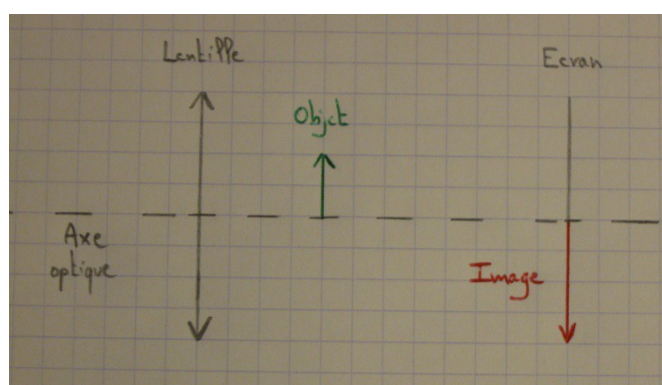


Schéma 4 :

